

## MATEMÁTICA

1. O brinquedo preferido de João está no seu lado esquerdo. Qual é o brinquedo preferido do João?



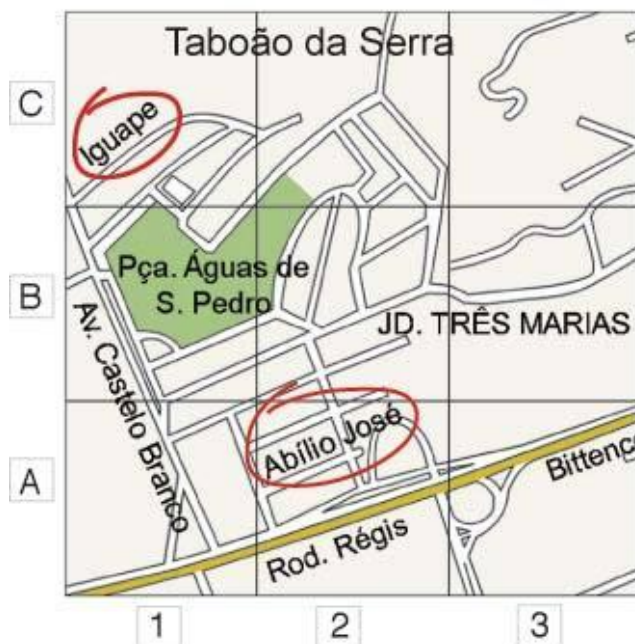
a) Peteca

b) Pipa

c) Bola

d) Bicicleta

2. A figura abaixo é um detalhe da planta de uma cidade de São Paulo. Nela, a localização da Rua Abílio José é indicada por A2. Desta forma, a identificação da Rua Iguape é:



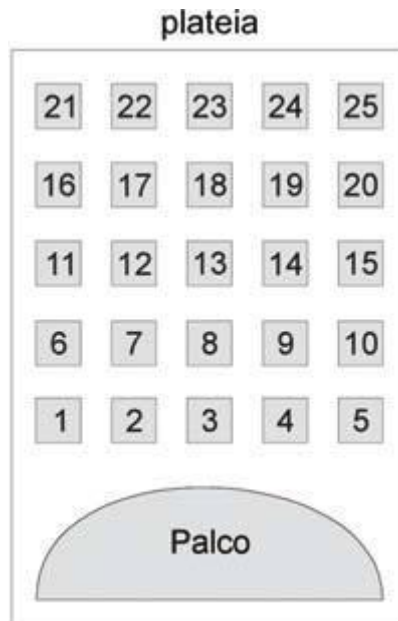
a) A2

b) C1

c) C3

d) B2

3. A figura abaixo mostra um teatro onde as cadeiras da plateia são numeradas de 1 a 25.



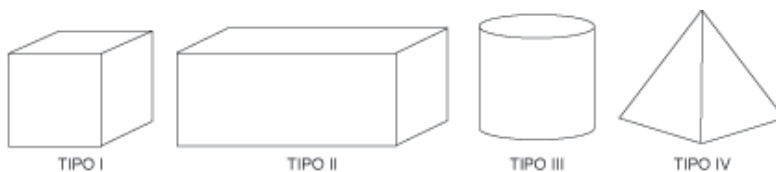
Mara recebeu um ingresso de presente que dizia o seguinte:

**Sua cadeira está localizada exatamente no centro da plateia.**

Qual é a cadeira de Mara?

- (A) 12                      (B) 13                      (C) 22                      (D) 23

4. Fabiana trabalha numa fábrica de caixas. Observe as caixas que Fabiana fabricou.



As caixas mais vendidas para colocar bombons têm a forma de cubos e paralelepípedos. Quais são elas?

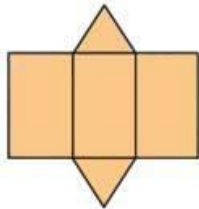
- a) Tipo I e II                      b) Tipo I e III                      c) Tipo II e III                      d) Tipo II e IV

5. Observe o bumbo que Beto gosta de tocar. Ele tem a forma de um cilindro.



Qual é o molde do cilindro?


(A)



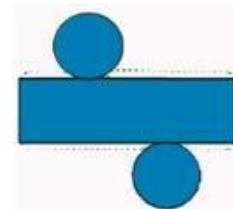
(B)



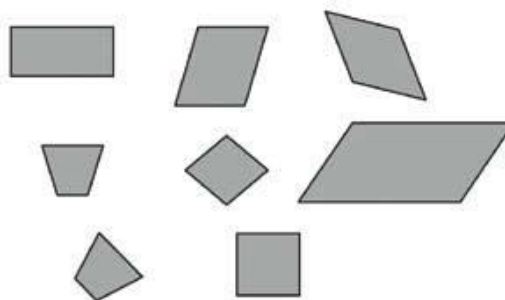
(C)



(D)



6. Mariana colou diferentes figuras numa página de seu caderno de Matemática, como mostra o desenho abaixo.



Essas figuras têm em comum

- (A) o mesmo tamanho.
- (B) o mesmo número de lados.
- (C) a forma de quadrado.
- (D) a forma de retângulo.